

**SET-2****Series BVM/5**कोड नं. **59/5/2**  
Code No.

रोल नं.

Roll No.

--	--	--	--	--	--	--

परीक्षार्थी कोड को उत्तर-पुस्तिका के मुख-पृष्ठ पर अवश्य लिखें ।

Candidates must write the Code on the title page of the answer-book.

- कृपया जाँच कर लें कि इस प्रश्न-पत्र में मुद्रित पृष्ठ **19** हैं ।
- प्रश्न-पत्र में दाहिने हाथ की ओर दिए गए कोड नम्बर को छात्र उत्तर-पुस्तिका के मुख-पृष्ठ पर लिखें ।
- कृपया जाँच कर लें कि इस प्रश्न-पत्र में **27** प्रश्न हैं ।
- कृपया प्रश्न का उत्तर लिखना शुरू करने से पहले, प्रश्न का क्रमांक अवश्य लिखें ।
- इस प्रश्न-पत्र को पढ़ने के लिए 15 मिनट का समय दिया गया है । प्रश्न-पत्र का वितरण पूर्वाह्न में 10.15 बजे किया जाएगा । 10.15 बजे से 10.30 बजे तक छात्र केवल प्रश्न-पत्र को पढ़ेंगे और इस अवधि के दौरान वे उत्तर-पुस्तिका पर कोई उत्तर नहीं लिखेंगे ।
- Please check that this question paper contains **19** printed pages.
- Code number given on the right hand side of the question paper should be written on the title page of the answer-book by the candidate.
- Please check that this question paper contains **27** questions.
- **Please write down the Serial Number of the question before attempting it.**
- 15 minute time has been allotted to read this question paper. The question paper will be distributed at 10.15 a.m. From 10.15 a.m. to 10.30 a.m., the students will read the question paper only and will not write any answer on the answer-book during this period.

**राजनीति विज्ञान****POLITICAL SCIENCE**

निर्धारित समय : 3 घण्टे

Time allowed : 3 hours

अधिकतम अंक : 100

Maximum Marks : 100

59/5/2

[Previous Pathshala](#)

P.T.O.



### सामान्य निर्देश :

- (i) सभी प्रश्न अनिवार्य हैं । इस प्रश्न-पत्र में कुल 27 प्रश्न हैं । प्रश्न-पत्र पाँच खण्डों में विभाजित है ।
- (ii) खण्ड अ में प्रश्न संख्या 1 – 5 तक प्रत्येक प्रश्न एक अंक का है । प्रत्येक प्रश्न का उत्तर 20 शब्दों से अधिक नहीं होना चाहिए ।
- (iii) खण्ड ब में प्रश्न संख्या 6 – 10 तक प्रत्येक प्रश्न दो अंकों का है । प्रत्येक प्रश्न का उत्तर 40 शब्दों से अधिक नहीं होना चाहिए ।
- (iv) खण्ड स में प्रश्न संख्या 11 – 16 तक प्रत्येक प्रश्न चार अंकों का है । प्रत्येक प्रश्न का उत्तर 100 शब्दों से अधिक नहीं होना चाहिए ।
- (v) खण्ड द में प्रश्न संख्या 17 – 21 तक प्रत्येक प्रश्न पाँच अंकों का है । प्रत्येक प्रश्न का उत्तर 150 शब्दों से अधिक नहीं होना चाहिए ।
- (vi) खण्ड द में प्रश्न संख्या 21 मानचित्र पर आधारित प्रश्न है । इसके उत्तर अपनी उत्तर-पुस्तिका में लिखिए ।
- (vii) खण्ड य में प्रश्न संख्या 22 – 27 तक प्रत्येक प्रश्न छः अंकों का है । प्रत्येक प्रश्न का उत्तर 150 शब्दों से अधिक नहीं होना चाहिए ।

### General Instructions :

- (i) All questions are compulsory. This questions paper has 27 questions in all. There are five sections in this question paper.
- (ii) Section A contains Questions number 1 – 5 of one mark each. The answers to these questions should not exceed 20 words each.
- (iii) Section B contains Questions number 6 – 10 of two marks each. The answers to these questions should not exceed 40 words each.
- (iv) Section C contains Questions number 11 – 16 of four marks each. The answers to these questions should not exceed 100 words each.
- (v) Section D contains Questions number 17 – 21 of five marks each. The answers to these questions should not exceed 150 words each.
- (vi) In Section D, Question number 21 is a map-based question. Write its answer in your answer-book.
- (vii) Section E contains Questions number 22 – 27 of six marks each. The answers to these questions should not exceed 150 words each.



**खण्ड अ**  
**SECTION A**

1. शीत युद्ध ने किस अर्थ में समूची मनुष्य जाति को उस पर मँडराते खतरे से जैसे-तैसे संभाल लिया ? 1

In what sense did the Cold War manage to ensure human survival ?

2. “इंदिरा गाँधी को असली चुनौती विपक्ष से नहीं अपितु खुद अपनी पार्टी के भीतर से मिली ।” एक उपयुक्त तर्क द्वारा इस कथन की पुष्टि कीजिए । 1

“The real challenge to Indira Gandhi came not from the opposition but from within her own party.” Support the statement by giving one appropriate argument.

3. 1970 के दशक में गुट-निरपेक्ष आंदोलन संबंधी निम्नलिखित कथनों में से कौन-सा कथन इसकी विचारधारा से मेल **नहीं** खाता ? 1

- (क) यह संगठन जातीय भेदभाव के विरुद्ध था ।  
(ख) यह छोटे देशों की आर्थिक स्वतंत्रता के लिए कार्यरत था ।  
(ग) इसने अलगाव एवं तटस्थता की नीति को बढ़ावा दिया ।  
(घ) इसके सदस्य देश किसी भी सैनिक गठबंधन में शामिल नहीं हुए ।

**अथवा**

शीत युद्ध संबंधी निम्नलिखित कथनों में से कौन-सा कथन **असत्य** है ? 1

- (क) इसने एक और विश्व युद्ध को जन्म दिया ।  
(ख) यह दो महाशक्तियों के बीच विचारधारात्मक युद्ध था ।  
(ग) यह अमरीकी तथा सोवियत गठबंधनों के बीच प्रतिस्पर्द्धा थी ।  
(घ) इसके कारण विरोधी गठबंधनों के देशों के बीच अस्त्र-शस्त्र बनाने की होड़ लग गई ।

Which of the following statements about Non-Aligned Movement during 1970s does **not** match with its ideology ?

- (a) The organisation was against racial discrimination.  
(b) It worked for economic independence of small countries.  
(c) It promoted the policy of isolation and neutrality.  
(d) Its member countries did not join any military alliance.

**OR**



Which among the following statements about Cold War is *false* ?

- (a) It led to the outbreak of another world war.
- (b) It was an ideological war between the two super powers.
- (c) It was a competition between the US and the Soviet alliances.
- (d) It triggered an arms race among countries of rival alliances.

4. रियो डी जनेरियो में हुए संयुक्त राष्ट्र संघ के पर्यावरण और विकास संबंधी सम्मेलन को पृथ्वी सम्मेलन (अर्थ सम्मिट) क्यों कहा जाता है ? 1

Why was the United Nations Conference on Environment and Development, held in Rio de Janeiro, called the Earth Summit ?

5. जब संयुक्त राज्य अमरीका के लिए केवल 'अमरीका' शब्द का प्रयोग किया जाता है, तो इसका क्या महत्त्व है ? 1

अथवा

‘ऑपरेशन डेज़र्ट स्टॉर्म’ से क्या अभिप्राय है ? 1

What does the word ‘America’ signify when it solely refers to the USA ?

OR

What is meant by the phrase ‘Operation Desert Storm’ ?

खण्ड ब

### SECTION B

6. चेकोस्लोवाकिया का विभाजन, युगोस्लाविया के विभाजन से किस प्रकार भिन्न था ? 1+1=2

How did the split in Czechoslovakia differ from breaking apart of Yugoslavia ?

7. 1950 के दशक में भारतीय राजनीति के इस काल को ‘काँग्रेस प्रणाली’ क्यों कहा गया है ? कोई दो कारण लिखिए । 1×2=2

अथवा

विचारधारा तथा कार्यक्रमों के आधार पर भारतीय जनसंघ अन्य दलों से भिन्न था । कोई दो उपयुक्त तर्क देकर इस कथन की पुष्टि कीजिए । 1×2=2

Why has the period of Indian politics in the 1950s been described as the ‘Congress system’ ? Give any two reasons.

OR

Bharatiya Jana Sangh was different from other parties in terms of ideology and programmes. Validate the statement by giving two relevant arguments.



8. उड़ीसा के ग्रामीणों ने उद्योगों की स्थापना का विरोध क्यों किया ?

2

**अथवा**

भारत की मिश्रित अर्थव्यवस्था प्रणाली की किन्हीं दो विशेषताओं को उजागर कीजिए ।  $1 \times 2 = 2$

Why did the villagers of Orissa protest against setting up of industries ?

**OR**

Highlight any two features of the system of mixed economy in India.

9. ऐसे चार सामान्य चिह्नों की पहचान कीजिए जो यूरोपीय संघ को एक राष्ट्र-राज्य का रूप देते हैं ।  $\frac{1}{2} \times 4 = 2$

**अथवा**

1962 में भारत और चीन के बीच सीमा संघर्ष का मूल कारण बने दो क्षेत्रों की पहचान कीजिए ।  $1 \times 2 = 2$

Identify four common symbols that make the European Union look like a nation state.

**OR**

Identify the two regions which were the actual basis of the border conflict between India and China in 1962.

10. 1970 से 1972 के बीच घटी ऐसी किन्हीं दो घटनाओं का विश्लेषण कीजिए जिनके कारण इंदिरा गाँधी एक मज़बूत राष्ट्रवादी नेता बन गईं ।  $1 \times 2 = 2$

Analyse any two events from 1970 to 1972 that made Indira Gandhi a strong nationalist leader.

**खण्ड स**

**SECTION C**

11. पारंपरिक सुरक्षा नीति के किन्हीं चार तत्वों की व्याख्या कीजिए ।  $1 \times 4 = 4$

**अथवा**

द्वितीय विश्व युद्ध के पश्चात् एशिया तथा अफ्रीका के नव स्वतंत्र देशों के समक्ष आने वाली सुरक्षा की किन्हीं चार चुनौतियों की व्याख्या कीजिए ।  $1 \times 4 = 4$

Elaborate upon any four components of traditional notion of security.

**OR**

Explain any four security challenges facing the newly independent countries of Asia and Africa after the end of the Second World War.



12. किन्हीं दो उदाहरणों की सहायता से एक 'सांस्कृतिक शक्ति' के रूप में अमरीकी वर्चस्व का वर्णन कीजिए । 4

Describe the US hegemony as a 'soft power' with the help of any two examples.

13. नेपाल में राजतंत्र से लोकतंत्र की स्थापना तक के विभिन्न चरणों की व्याख्या कीजिए । 4

Explain the various phases of Nepal's transition from monarchy to democracy.

14. भारत में वर्ष 1975 में लगाए गए राष्ट्रीय आपातकाल के किन्हीं चार परिणामों का आकलन कीजिए । 1×4=4

अथवा

1977 के चुनावों में, कांग्रेस पार्टी के एक विकल्प के रूप में, जनता पार्टी के उभरने का मूल्यांकन कीजिए । 4

Assess any four consequences of the national emergency imposed in the year 1975 in India.

OR

Evaluate the emergence of Janata Party as people's alternative to the Congress Party in the elections of 1977.

15. "हम जो कुछ खाते-पीते-पहनते हैं अथवा सोचते हैं — सब पर वैश्वीकरण का प्रभाव पड़ता है ।" उदाहरण देकर इस कथन की पुष्टि कीजिए । 4

"Globalisation affects us in what we eat, drink, wear and indeed in what we think." Justify the statement by giving examples.

16. गोर्बाचेव द्वारा समस्याओं के सही निदान और सुधारों को लागू करने के प्रयासों के बावजूद, सोवियत संघ का विघटन क्यों हुआ ? कोई चार कारण स्पष्ट कीजिए । 1×4=4

अथवा

1970 के दशक में सोवियत व्यवस्था की अधिकांश संस्थाओं को सुधारने की आवश्यकता क्यों पड़ी ? कोई चार कारण स्पष्ट कीजिए । 1×4=4

Why did the Soviet Union collapse in spite of Gorbachev's accurate diagnosis of the problem and his attempt to implement reforms ? Explain any four reasons.

OR

Why did most of the institutions of the Soviet system need reforms during late 1970s ? Explain any four reasons.





- Study the picture given below carefully and answer the following questions :





- (i) The given picture refers to which country ? Name the continent where it is located.
- (ii) Identify the two symbols in this picture which help in the identification of the country ?
- (iii) What do these two symbols depict ?

**नोट :** निम्नलिखित प्रश्न केवल दृष्टिबाधित परीक्षार्थियों के लिए, प्रश्न संख्या 17 के स्थान पर हैं :

**Note :** The following questions are for the **Visually Impaired Candidates** only, in lieu of Question No. 17 :

- (17.1) प्रधान मंत्री चाऊ एनलाई तथा तत्कालीन नेता देंग श्याओपेंग किस देश से संबंधित थे ? इस देश का पूरा नाम क्या है ?
- (17.2) अपने देश के आर्थिक विकास में, इन दो नेताओं का मुख्य योगदान क्या था ?
- (17.3) चित्र में दिखाया गया छोटा व्यक्ति ड्रैगन को रोकने का प्रयास क्यों कर रहा है ? 1+2+2=5
- (17.1) Premier Zhou Enlai and the then leader Deng Xiaoping belonged to which country ? What is the complete name of this country ?
- (17.2) What was the main contribution of these two leaders in their country's economic development ?
- (17.3) Why is the little man shown in the picture trying to stop the dragon ?

**18.** नीचे दिए गए अवतरण का ध्यानपूर्वक अध्ययन कीजिए और निम्नलिखित प्रश्नों के उत्तर लिखिए :

आठवें दशक के प्रारंभ में भारत के मध्य भाग में स्थित नर्मदा घाटी में विकास परियोजना के तहत मध्य प्रदेश, गुजरात और महाराष्ट्र से गुज़रने वाली नर्मदा और उसकी सहायक नदियों पर 30 बड़े, 135 मझोले तथा 3,000 छोटे बाँध बनाने का प्रस्ताव रखा गया। गुजरात के सरदार सरोवर और मध्य प्रदेश के नर्मदा सागर बाँध के रूप में दो सबसे बड़ी और बहु-उद्देशीय परियोजनाओं का निर्धारण किया गया। नर्मदा नदी के बचाव में नर्मदा बचाओ आंदोलन चला। इस आंदोलन ने बाँधों के निर्माण का विरोध किया। नर्मदा बचाओ आंदोलन इन बाँधों के निर्माण के साथ-साथ देश में चल रही विकास परियोजनाओं के औचित्य पर भी सवाल उठाता रहा है।

- (i) नर्मदा घाटी में प्रारंभ की गई महत्वाकांक्षी परियोजना का नाम लिखिए।





- (ii) नर्मदा बचाओ आंदोलन के सक्रिय कार्यकर्ताओं द्वारा इस परियोजना के विरोध में उठाए गए किन्हीं दो मुद्दों को स्पष्ट कीजिए ।
- (iii) नर्मदा बचाओ आंदोलन के प्रारंभ से ही इस परियोजना के विरोध को अन्य बड़े मुद्दों के साथ क्यों जोड़ा गया ? 1+2+2=5

Read the passage given below carefully and answer the following questions :

An ambitious developmental project was launched in the Narmada valley of central India in early eighties. The project consisted of 30 big dams, 135 medium sized and around 3,000 small dams to be constructed on the Narmada and its tributaries that flow across three states of Madhya Pradesh, Gujarat and Maharashtra. Sardar Sarovar Project in Gujarat and the Narmada Sagar Project in Madhya Pradesh were two of the most important and biggest, multi-purpose dams planned under the project. Narmada Bachao Andolan, a movement to save Narmada, opposed the construction of these dams and questioned the nature of ongoing developmental projects in the country.

- (i) Name the ambitious project launched in the Narmada valley.
- (ii) Explain any two concerns raised by the activists of Narmada Bachao Andolan against this project.
- (iii) Since its inception, why did the Narmada Bachao Andolan link its oppositions to this project with other larger issues ?

19. नीचे दिए गए अवतरण का ध्यानपूर्वक अध्ययन कीजिए और निम्नलिखित प्रश्नों के उत्तर लिखिए :

नेहरू के उत्तराधिकारी का सवाल इतनी आसानी से हल कर लिया गया कि आलोचक ठगे-से रह गए । नेहरू की मृत्यु के बाद काँग्रेस पार्टी के अध्यक्ष के. कामराज ने अपनी पार्टी के नेताओं और सांसदों से सलाह-मशविरा किया । उन्होंने पाया कि सभी लाल बहादुर शास्त्री के पक्ष में हैं । शास्त्री, काँग्रेस संसदीय दल के निर्विरोध नेता चुने गए और इस तरह वे देश के प्रधान मंत्री बने । शास्त्री, उत्तर प्रदेश के थे और नेहरू के मंत्रिमंडल में कई सालों तक मंत्री रहे थे । उनको लेकर कभी किसी किस्म का विवाद नहीं उठा था । अपने आखिरी सालों में नेहरू उन पर ज़्यादा-से-ज़्यादा निर्भर होते गए थे । शास्त्री अपनी सादगी और सिद्धांत निष्ठा के लिए प्रसिद्ध थे ।



- (i) नेहरू की मृत्यु के पश्चात् उत्तराधिकार का प्रश्न सरलता से हल होने के कारण, आलोचकों के कौन-से दो संदेह गलत सिद्ध हुए ?
- (ii) किसी एक उदाहरण द्वारा यह प्रमाणित कीजिए कि लाल बहादुर शास्त्री अपनी सिद्धांत निष्ठा के लिए प्रसिद्ध थे ।
- (iii) शास्त्री के प्रधानमंत्रित्व काल में भारत के समक्ष आने वाली किन्हीं दो मुख्य चुनौतियों को उजागर कीजिए ।

2+1+2=5

### अथवा

नीचे दिए गए अवतरण का ध्यानपूर्वक अध्ययन कीजिए और निम्नलिखित प्रश्नों के उत्तर लिखिए :

इंदिरा गाँधी यों तो बड़े लंबे समय से राजनीति में सक्रिय थीं, लेकिन लाल बहादुर शास्त्री के मंत्रिमंडल में बड़े कम दिनों से मंत्री पद पर थीं । काँग्रेस के वरिष्ठ नेताओं ने संभवतया यह सोचकर उनका समर्थन किया होगा कि प्रशासनिक और राजनीतिक मामलों में खास अनुभव न होने के कारण समर्थन और दिशा-निर्देशन के लिए इंदिरा गाँधी उन पर निर्भर रहेंगी । प्रधान मंत्री बनने के एक साल के अंदर इंदिरा गाँधी को लोक सभा के चुनावों में पार्टी की अगुवाई करनी पड़ी । इस वक्त तक देश की आर्थिक स्थिति और भी खराब हो गई थी । इससे इंदिरा की कठिनाइयाँ ज़्यादा बढ़ गई । इन कठिनाइयों के मद्देनजर उन्होंने पार्टी पर अपना नियंत्रण बढ़ाने और अपने नेतृत्व कौशल को दिखाने की कोशिश की ।

- (i) 1966 में शास्त्री की मृत्यु के पश्चात्, इंदिरा गाँधी के साथ, काँग्रेस पार्टी के किस अन्य वरिष्ठ नेता ने प्रधान मंत्री के पद के लिए चुनाव लड़ा ?
- (ii) उस समय देश की आर्थिक स्थिति को नियंत्रित करने के लिए, इंदिरा गाँधी द्वारा की गई किन्हीं दो नीतिगत पहलों को स्पष्ट कीजिए ।
- (iii) 1967 के चुनावों के पश्चात्, इंदिरा गाँधी ने अपना नेतृत्व कौशल कैसे दिखाया तथा पार्टी के अंदर अपनी स्थिति को कैसे मज़बूत किया ? कोई दो उदाहरण दीजिए । 1+2+2=5

Read the passage given below carefully and answer the following questions :

The ease with which the succession after Nehru took place proved all the critics wrong. When Nehru passed away, K. Kamraj, the President of the Congress Party consulted party leaders and Congress Members of Parliament and found that there was a consensus in favour of Lal Bahadur Shastri. He



was unanimously chosen as the leader of the Congress parliamentary party and thus became the country's next Prime Minister. Shastri was a non-controversial leader from Uttar Pradesh who had been a Minister in Nehru's cabinet for many years. Nehru had come to depend a lot on him in his last years. He was known for his simplicity and his commitment to principles.

- (i) Which two fears of the critics were proved wrong by the easy succession after Nehru's demise ?
- (ii) Give any one example to prove that Lal Bahadur Shastri was known for his commitment to principles.
- (iii) Highlight any two major challenges which India faced during Shastri's Prime Ministership.

**OR**

Read the passage given below carefully and answer the following questions :

While Indira Gandhi had been politically active for very long, she had served as a minister under Lal Bahadur Shastri only for a short period. The senior Congress leaders may have supported Indira Gandhi in the belief that her administrative and political inexperience would compel her to be dependent on them for support and guidance. Within a year of becoming Prime Minister, Indira Gandhi had to lead the party in the Lok Sabha election. Around this time, the economic situation in the country had further deteriorated, adding to her problems. Faced with these difficulties, she set out to gain control over the party and to demonstrate her leadership skills.



- (i) Which senior leader of the Congress Party contested for the post of Prime Ministerial candidate along with Indira Gandhi after Shastri's death in 1966 ?
- (ii) Explain any two policy initiatives taken by Indira Gandhi to control the economic condition of the country at this time.
- (iii) How did Indira Gandhi assert her leadership skills and consolidate her position within the party after 1967 elections ? Give any two examples.

**20.** नीचे दिए गए अवतरण का ध्यानपूर्वक अध्ययन कीजिए और निम्नलिखित प्रश्नों के उत्तर लिखिए :

अगर विभिन्न देशों की सरकारें कदम उठाती हैं तो इन मसलों की परिणति इस अर्थ में राजनीतिक होगी । इन मसलों में अधिकांश ऐसे हैं कि किसी एक देश की सरकार इनका पूरा समाधान अकेले दम पर नहीं कर सकती । इस वजह से ये मसले विश्व-राजनीति का हिस्सा बन जाते हैं । पर्यावरण तथा प्राकृतिक संसाधनों से सम्बन्धित मसले एक और गहरे अर्थ में राजनीतिक हैं ।

- (i) वर्तमान के किन्हीं दो पर्यावरण संबंधी सरोकारों की पहचान कीजिए ।
- (ii) आपके विचार में, पर्यावरण के निम्नीकरण को रोकने के लिए कौन-से दो सिद्धांत अपनाए जा सकते हैं ?
- (iii) पर्यावरणीय मसलों के किन्हीं दो 'राजनीतिक' परिणामों का विश्लेषण कीजिए ।  $1+2+2=5$

**अथवा**

नीचे दिए गए अवतरण का ध्यानपूर्वक अध्ययन कीजिए और निम्नलिखित प्रश्नों के उत्तर लिखिए :

भारत ने पृथ्वी-सम्मेलन (रियो) के समझौतों के क्रियान्वयन का एक पुनरावलोकन 1997 में किया । इसका मुख्य निष्कर्ष यह था कि विकासशील देशों को रियायती शर्तों पर नए और अतिरिक्त वित्तीय संसाधन तथा पर्यावरण के संदर्भ में बेहतर साबित होने वाली प्रौद्योगिकी मुहैया कराने की दिशा में कोई सार्थक



प्रगति नहीं हुई है । भारत इस बात को ज़रूरी मानता है कि विकसित देश विकासशील देशों को वित्तीय संसाधन तथा स्वच्छ प्रौद्योगिकी मुहैया कराने के लिए तुरंत उपाय करें ताकि विकासशील देश यू.एन.एफ.सी.सी.सी. (UNFCCC) की मौजूदा प्रतिबद्धताओं को पूरा कर सकें ।

- (i) यू.एन.एफ.सी.सी.सी. (UNFCCC) का विस्तृत रूप लिखिए ।
- (ii) यू.एन.एफ.सी.सी.सी. के अंतर्गत विकासशील देशों की मौजूदा प्रतिबद्धताओं को उजागर कीजिए ।
- (iii) विकासशील देश वित्तीय संसाधनों तथा स्वच्छ (पर्यावरण-अनुकूल) प्रौद्योगिकी को रियायती शर्तों पर क्यों मुहैया करवाना चाहते हैं ? 1+2+2=5

Read the passage given below carefully and answer the following questions :

If the various governments take steps to check environmental degradation ....., these issues will have political consequences in that sense. Most of them are such that no single government can address them fully, hence they have become a part of 'world politics'. Issues of environment and natural resources are political in another deeper sense.

- (i) Identify any two of the present day environmental concerns.
- (ii) In your opinion, which two principles can be adopted to check environmental degradation ?
- (iii) Analyse any two 'political' consequences of environmental issues.

**OR**

Read the passage given below carefully and answer the following questions :

A review of the implementation of the agreements at the Earth Summit in Rio was undertaken by India in 1997. One of the key conclusions was that there had been no meaningful progress with respect to transfer of new and additional



financial resources and environmentally-sound technology on concessional terms to developing nations. India finds it necessary that developed countries take immediate measures to provide developing countries with financial resources and clean technologies to enable them to meet their existing commitments under UNFCCC.

- What is the full form of UNFCCC ?
- Highlight the existing commitments of the developing countries under UNFCCC.
- Why do the developing countries want transfer of financial resources and eco-friendly technology on concessional terms ?

21. भारत के दिए गए राजनीतिक रेखा-मानचित्र (पृष्ठ 16 पर), में पाँच राज्यों को (A), (B), (C), (D) तथा (E) द्वारा दर्शाया गया है। नीचे दी गई जानकारी के आधार पर इन राज्यों की पहचान कीजिए और अपनी उत्तर-पुस्तिका में इनके सही नाम, प्रयोग की गई जानकारी की क्रम संख्या तथा संबंधित अक्षर, नीचे दी गई तालिका के रूप में लिखिए :

प्रयोग की गई जानकारी की क्रम-संख्या	सम्बन्धित अक्षर	राज्य का नाम
(i)		
(ii)		
(iii)		
(iv)		
(v)		






- ताड़ी विरोधी आंदोलन से संबंधित राज्य।
- वह राज्य जिसने अलग राष्ट्रीय अस्तित्व के लिए आंदोलन किया।
- वह राज्य जहाँ बोडो तथा करबी समुदाय रहते हैं।
- वह राज्य जहाँ लोंगोवाल समझौता हुआ।
- वह राज्य जिसे भारतीय संविधान द्वारा विशेष दर्जा दिया गया है।

1×5=5





In the given political outline map of **India** (on page 16), five States have been marked as **(A)**, **(B)**, **(C)**, **(D)** and **(E)**. Identify them on the basis of the information given below and write their correct names in your answer-book with the respective serial number of the information used and the concerned alphabet as per the following format :

Sr. no. of the information used	Concerned Alphabet	Name of the State
(i)		
(ii)		
(iii)		
(iv)		
(v)		

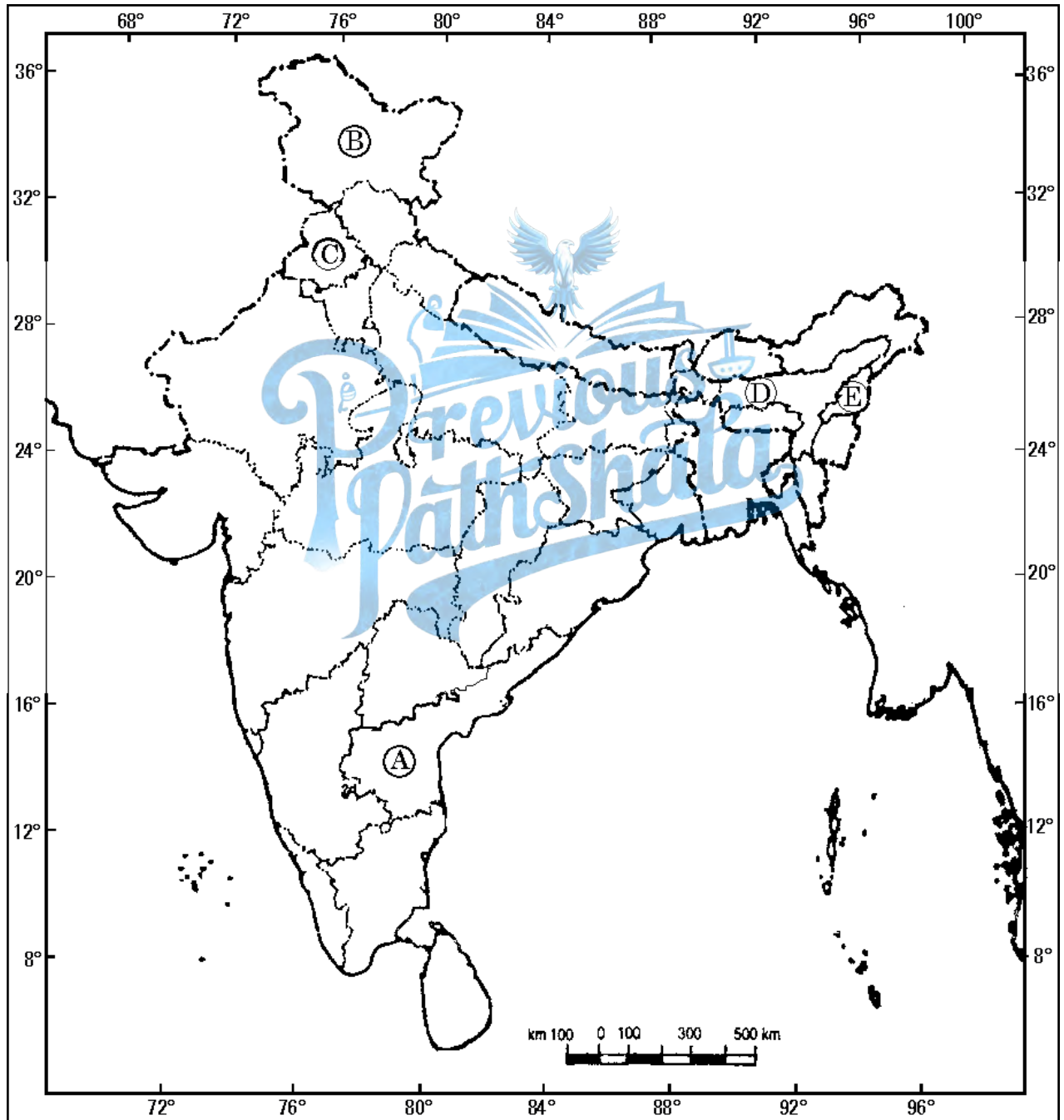
- (i) The State associated with Anti-Arrack Movement.
- (ii) The State which saw movement for separate national existence.
- (iii) The State where the Bodo and Karbi communities live.
- (iv) The State where Longowal Accord was signed.
- (v) The State which has a special status given by the Constitution of India.



प्रश्न सं. 21 के लिए

For question no. 21

भारत का रेखा-मानचित्र (राजनीतिक)  
Outline Map of India (Political)





**नोट :** निम्नलिखित प्रश्न केवल दृष्टिबाधित परीक्षार्थियों के लिए, प्रश्न संख्या 21 के स्थान पर हैं :

**Note :** The following questions are for the **Visually Impaired Candidates** only, in lieu of Question No. 21 :

- (21.1) ताड़ी विरोधी आंदोलन से संबंधित राज्य का नाम लिखिए ।
- (21.2) पूर्वोत्तर में किस राज्य ने अलग राष्ट्रीय अस्तित्व के लिए आंदोलन किया ?
- (21.3) पूर्वोत्तर का कौन-सा राज्य बोडो तथा करबी समुदायों से संबंधित है ?
- (21.4) उस राज्य का नाम लिखिए जहाँ लोंगोवाल समझौता हुआ ।
- (21.5) उत्तर भारत के उस राज्य की पहचान कीजिए जिसे अनुच्छेद 370 के अंतर्गत विशेष दर्जा दिया गया है । 1×5=5
- (21.1) Name the State which is associated with Anti-Arrack Movement.
- (21.2) Which State saw movement for separate national existence in the North-east ?
- (21.3) Which North-eastern State is associated with Bodo and Karbi communities ?
- (21.4) Name the State where Longowal Accord was signed.
- (21.5) Identify a northern State which has special status under Article 370.

**खण्ड य**

### **SECTION E**

- 22.** गुट-निरपेक्ष आंदोलन (नैम) से क्या अभिप्राय है ? इसकी स्थापना किसने तथा कब की ? महाशक्तियों के बीच युद्ध को रोकने में गुट-निरपेक्ष आंदोलन की भूमिका का वर्णन कीजिए । 1+2+3=6

**अथवा**

नव अंतर्राष्ट्रीय आर्थिक व्यवस्था की स्थापना क्यों की गई थी ? विश्व व्यापार प्रणाली में सुधार लाने हेतु अंकटाड (UNCTAD) द्वारा प्रस्तावित किए गए चार सुधार कौन-से थे ? 2+4=6  
What is Non-Aligned Movement (NAM) ? Who founded this movement and when ? Describe the role played by NAM in preventing war between the super powers.

**OR**

Why was the New International Economic Order established ? Which four reforms were proposed by UNCTAD to reform the global trading system ?



23. बदलते हुए परिवेश में संयुक्त राष्ट्र को अधिक प्रासंगिक बनाने के लिए उठाए जाने वाले किन्हीं छः कदमों का उल्लेख कीजिए । 1×6=6

**अथवा**

भारत ने किन चार आधारों पर संयुक्त राष्ट्र के ढाँचे के पुनर्गठन के लिए अपना समर्थन प्रदान किया है ? वर्णन कीजिए ।  $1\frac{1}{2} \times 4 = 6$

Mention any six steps which should be taken to make the UN more relevant in the changing context.

**OR**

Describe any four grounds on which India has supported the restructuring of the UN.

24. पंजाब में शांति की स्थापना का मार्ग आसान नहीं था । इस दिशा में 1984 से 1997 तक किए गए प्रयासों का मूल्यांकन कीजिए । 6

**अथवा**

“2004 के लोक सभा चुनावों के पश्चात् भारत में कई मुकाबले और बहुत-से संघर्षों के बावजूद, अधिकतर राजनीतिक दलों में एक सहमति-सी उभरती नज़र आई ।” किन्हीं तीन उपयुक्त तर्कों द्वारा इस कथन का समर्थन कीजिए । 2×3=6

The road to peace in Punjab was not an easy one. Evaluate the efforts made in this direction from 1984 to 1997.

**OR**

“In the midst of competition and conflicts, a consensus appeared to have emerged among most political parties in India after the Lok Sabha elections in 2004.” Validate the statement with any three suitable arguments.

25. 1947 में स्वतंत्रता के तुरंत पश्चात्, भारत को छोटे-छोटे देशों में बँट जाने की संभावना से, अंतरिम सरकार ने कैसे रोका ? 6

**अथवा**

भाषायी आधार पर अलग राज्यों के निर्माण की माँग को, भारत सरकार ने प्रारंभ में क्यों स्वीकार नहीं किया ? इस निर्णय के क्या परिणाम निकले ? 3+3=6



How did the interim government prevent possible division of India into small principalities immediately after independence in 1947 ?

**OR**

Why were the demands for creation of separate states on linguistic lines initially not accepted by the Indian Government ? What were the effects of this decision ?

26. हरित क्रांति के तीन सकारात्मक और तीन नकारात्मक परिणामों का विश्लेषण कीजिए । 3+3=6

**अथवा**

“द्वितीय पंचवर्षीय योजना के अंतर्गत तीव्र औद्योगीकरण पर बल दिया गया तथा देश के संरचनात्मक ढाँचे में तेज़ी से परिवर्तन का लक्ष्य रखा गया ।” उदाहरणों की सहायता से कथन की पुष्टि कीजिए ।

6

Analyse three positive and three negative consequences of the Green Revolution.

**OR**

“The Second Five Year Plan stressed upon rapid industrialization and aimed for quick structural transformation of the nation.” Justify the statement with the help of illustrations.

27. “1962 के भारत-चीन युद्ध ने भारत की छवि को देश तथा विदेश दोनों में धूमिल किया ।” क्या आप इस कथन से सहमत हैं ? किन्हीं तीन तर्कों द्वारा अपने उत्तर को न्यायोचित ठहराइए । 2×3=6

**अथवा**

यदि आपको राष्ट्र हित में भारत की विदेश नीति में कुछ परिवर्तन करने का अवसर मिले, तो आप कौन-से तीन परिवर्तन सुझाएँगे ? 2×3=6

“The Indo-China war of 1962 dented India’s image at home and abroad.” Do you agree with the statement ? Justify your answer with any three arguments.

**OR**

If you are given a chance to make some changes in India’s foreign policy keeping into mind our national interests, suggest any three such changes.